

GEOGRAFIA

8

ANO

GEOGRAFIA
8º ano

1. GLOBALIZAÇÃO

2. AMÉRICA

3. ÁFRICA

1ª edição



MARCELO F BATISTA
Organizador

azup

GEOGRAFIA

8º ANO

AZUP

Marcelo F Batista
Organizador

<https://azup.com.br/>

Título: *Geografia 8º ano Azup*
Copyright © 2022 por Azup Educacional
Todos os direitos reservados. Nenhuma parte deste livro pode ser utilizada ou reproduzida sob quaisquer meios existentes sem autorização por escrito dos editores.

Professora: Emilyn Diniz
Diagramador: Carlos Batista
Organizador: Marcelo F Batista

NÃO É PERMITIDO
Qualquer uso comercial desse material.

Este livro e o site/ app Azup encontram-se protegido pela Lei 9.610/98 (Lei de Direitos Autorais), Lei 9.279/98 (Lei da Propriedade Industrial) e pela Constituição Federal, assim como todo o conteúdo oral e escrito disponibilizado pelos mesmos, sendo vedada a sua reprodução com finalidade comercial ou intenção de lucro ou que atinjam a sua integridade, a sua honra e moral.

Todos os direitos de personalidade dos mesmos, como direito à imagem e voz, e demais direitos da Propriedade Intelectual (marcas e direitos autorais) e quaisquer outras criações dos mesmos são geridos e administrados pela empresa Azup Educacional, sendo vedada a sua reprodução desautorizada.

A violação desses direitos ensejará na adoção das medidas legais cabíveis e estão sujeitas às sanções previstas na Lei 9.610/98, Lei 9.279/98 e nos artigos 184 e 186 do Código Penal, sem prejuízo da indenização por eventuais perdas e danos.

Todos os direitos reservados por Azup Educacional.
Vale das Palmeiras, 10 - Tororó – Brasília/DF – CEP 71684-370
E-mail: azup@azup.com.br
<https://azup.com.br/>

<https://azup.com.br/>

azup


Sua Escola Virtual Gamificada

Baixe e instale o APP



ORGANIZAÇÃO CURRICULAR

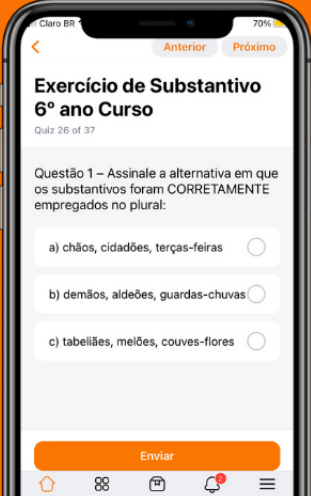
Conteúdo anual conforme BNCC



VIDEOAULAS

Aulas explicativas em texto e vídeo





Claro BR 70%

Anterior Próximo

Exercício de Substantivo 6º ano Curso

Quiz 26 of 37

Questão 1 – Assinale a alternativa em que os substantivos foram CORRETAMENTE empregados no plural:

- a) chãos, cidadões, terças-feiras
- b) demãos, aldeões, guardas-chuvas
- c) tabeliães, melões, couves-flores

Enviar

Início Explorar Loja Avisos Mais

EXERCÍCIOS
Exercícios online com gabarito e solução



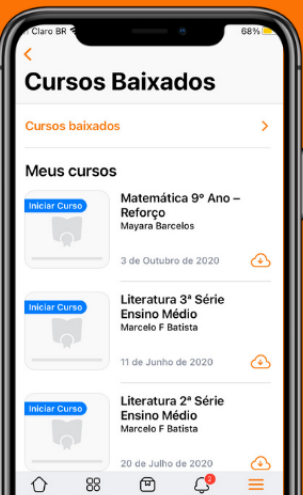
Claro BR 68%

7º ano Geografi...

- Aulas Teóricas
7º ano Completo
Marcelo F Batista • 17 de Mai de 2022
- Listas de Exercícios
7º ano Completo
Marcelo F Batista • 9 de Set de 2021
- Mapas Mentais
7º ano Completo
Marcelo F Batista • 26 de Ago de 2021
- Planejamento Anual
7º ano Completo
Marcelo F Batista • 26 de Ago de 2021

Início Explorar Loja Avisos Mais

MATERIAIS EM PDF
Baixe PDFs para imprimir



Claro BR 68%

Cursos Baixados

Cursos baixados

Meus cursos

- Matemática 9º Ano – Reforço
Mayara Barcelos
3 de Outubro de 2020
- Literatura 3ª Série Ensino Médio
Marcelo F Batista
11 de Junho de 2020
- Literatura 2ª Série Ensino Médio
Marcelo F Batista
20 de Julho de 2020

Início Explorar Loja Avisos Mais

OFFLINE
Baixe os cursos e estude mesmo sem internet

ESCOLA VIRTUAL

Crie o perfil da sua escola



GAMIFICAÇÃO

Conquiste desafios e participe do ranking



#	Avatar	Nome
1	[Avatar]	Patrícia Delfino
2	[Avatar]	Oliver Davi Cezario de Oliveira
3	[Avatar]	Andrea Hurtado
4	[Avatar]	Maria Luiza Bezerra de Lima Sales
5	[Avatar]	Anderson Martins
6	[Avatar]	Hudson Arthurs

APP AZUP

Baixe e instale agora



<https://azup.com.br/>

SUMÁRIO

1. GLOBALIZAÇÃO E EXPANSÃO MUNDIAL	9
1.1. CARTOGRAFIA: CONTINENTES, OCEANOS E MARES: ÊNFASE NA AMÉRICA E NA ÁFRICA	10
1.1.1. Exercícios de cartografia: continentes, oceanos e mares: ênfase na América e na África	15
1.2. ANÁLISE DE SISTEMAS POLÍTICO-ECONÔMICOS DO MUNDO: GUERRA FRIA, PAÍSES CAPITALISTAS E SOCIALISTAS; PAÍSES DESENVOLVIDOS, EMERGENTES; DO NORTE E DO SUL (CENTRAIS E PERIFÉRICOS)	18
1.2.1. Exercícios de análise de sistemas político-econômicos do mundo: Guerra Fria, países capitalistas e socialistas; países desenvolvidos, emergentes; do norte e do sul (centrais e periféricos)	22
1.3. GLOBALIZAÇÃO DA ECONOMIA	25
1.3.1. Exercícios de relações de mercados mundiais: globalização da economia	28
1.4. EXPLORAÇÃO E POVOAMENTO: AMÉRICA E ÁFRICA	31
1.4.1. Exercícios de exploração e povoamento: América e África	36
2. AMÉRICA	39
2.1. LOCALIZAÇÃO, REGIONALIZAÇÃO E CARACTERÍSTICAS DO ESPAÇO NATURAL	42
2.1.1. Exercícios de localização, regionalização e características do espaço natural	56
2.2. ASPECTOS DEMOGRÁFICOS, POLÍTICOS, SOCIAIS E ECONÔMICOS COM ÊNFASE NOS EUA E CANADÁ	59
2.2.1. Exercícios de aspectos demográficos, políticos, sociais e econômicos com ênfase nos EUA e Canadá	62
2.3. DIVERSIDADES E CONTRASTES	65
2.3.1. Exercícios de diversidades e contraste	67
2.4. DEPENDÊNCIAS TECNOLÓGICAS	70

2.4.1.	Exercícios de dependências tecnológicas	72
2.5.	URBANIZAÇÃO E SUAS CONSEQUÊNCIAS	75
2.5.1.	Exercícios de urbanização e suas consequências	77
2.6.	RELAÇÃO DE INTERDEPENDÊNCIA DA CIDADE COM O CAMPO	79
2.6.1.	Exercícios de relação de interdependência da cidade com o campo	82
2.7.	BLOCOS ECONÔMICOS DA AMÉRICA E SUAS RELAÇÕES COM MERCADOS MUNDIAIS	86
2.7.1.	Exercícios de blocos econômicos da América e suas relações com mercados mundiais	90
2.8.	Exercícios sobre: América	93
3.	ÁFRICA	96
3.1.	LOCALIZAÇÃO, REGIONALIZAÇÃO E CARACTERÍSTICAS DO ESPAÇO NATURAL	98
3.1.1.	Exercícios de localização, regionalização e características do espaço natural (África)	106
3.2.	ASPECTOS DEMOGRÁFICOS, POLÍTICOS, SOCIAIS E ECONÔMICOS	109
3.2.1.	Exercícios de aspectos demográficos, políticos, sociais e econômicos	116
3.3.	DIVERSIDADE ÉTNICA E SOCIAL	119
3.3.1.	Exercícios de diversidade étnica e social	121
3.4.	CONFLITOS ÉTNICOS, POLÍTICOS E RELIGIOSOS	124
3.4.1.	Exercícios de conflitos étnicos, políticos e religiosos	130
3.5.	SEGREGAÇÃO RACIAL DA ÁFRICA DO SUL – APARTHEID	133
3.5.1.	Segregação racial da África do Sul – Apartheid	135
3.6.	CULTURA AFRICANA E INFLUÊNCIAS NO BRASIL	138
3.6.1.	Exercícios de cultura africana e influências no Brasil	141

1

1. GLOBALIZAÇÃO

Cartografia: continentes, oceanos e mares: ênfase na América e na África

Análise de sistemas político-econômicos do mundo: Guerra Fria, países capitalistas e socialistas; países desenvolvidos, emergentes; do norte e do sul (centrais e periféricos)

Globalização da economia

Exploração e povoamento: América e África

1.1. CARTOGRAFIA: CONTINENTES, OCEANOS E MARES: ÊNFASE NA AMÉRICA E NA ÁFRICA

Os continentes formaram-se no período Pré-cambriano, há cerca de 4,5 bilhões de anos, sobre as placas tectônicas, que inicialmente estavam agrupadas em uma imensa massa territorial, a Pangeia. O movimento milimétrico desses blocos de terra originou os atuais continentes. Considera-se que o **planeta Terra possui seis continentes: América, África, Ásia, Europa, Oceania e Antártida.**

Continente americano

O **continente americano** possui a maior extensão latitudinal do mundo, ocupando, praticamente, todas as faixas de norte a sul. Essa distribuição permite que o continente experimente todas as variações climáticas do planeta, desde as camadas mais quentes da região equatorial às zonas temperadas e camadas polares. Do mesmo modo, observam-se as mais variadas expressões de vegetação, solo e relevo.

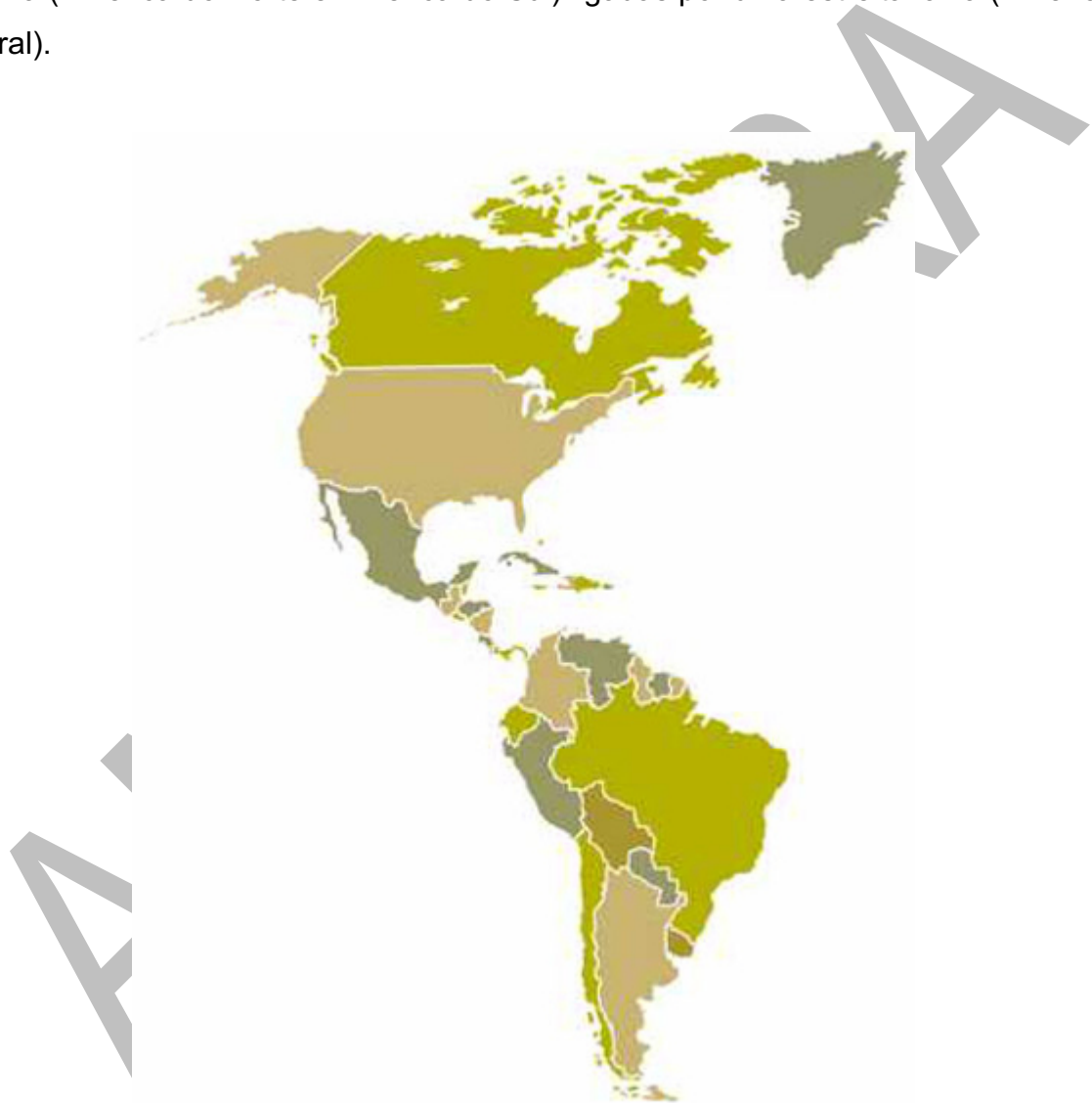
Sua extensão territorial é de 42.550.000 km², e a população é estimada em 1 bilhão de habitantes, distribuídos em 35 países e 16 territórios. Sua posição geográfica isola-o completamente de outro continente: a oeste, pelo Oceano Pacífico; a leste, pelo Oceano Atlântico.

O **PIB total do continente americano** é calculado em 20,3 trilhões de dólares. Os Estados Unidos, isoladamente, respondem por 65% desse montante. As demais nações de destaque econômico no continente são: Brasil, Argentina, Uruguai, Canadá e México.

No que se refere aos **aspectos histórico-culturais** do continente americano, pode-se subdividi-lo em duas porções: América Anglo-saxônica e América Latina. A primeira refere-se à porção de terras ocupada pelos ingleses e que se constituiu como colônias de povoamento. A segunda foi colonizada por portugueses e espanhóis, em sua maioria, e constituiu-se como colônias de exploração. Considerando que a raiz do

idioma dos colonizadores ibéricos é o latim, esses países ficaram conhecidos como latinos.

Outra divisão pode ser feita a partir dos **aspectos físicos e naturais** do continente e, nesse caso, a subdivisão ocorre entre **América do Norte, América Central e América do Sul**. Essa divisão considera que o continente é formado por duas massas de terra (América do Norte e América do Sul) ligadas por uma estreita faixa (América Central).



Continente africano

O continente africano possui 54 países e 9 territórios. Sua extensão territorial é de 30.370.000km², e sua população é estimada em 1.216.000 milhões de habitantes. Com uma **extensa distribuição latitudinal**, o continente ocupa parte do hemisfério

norte e parte do hemisfério sul, sendo cortado praticamente ao meio pela linha do Equador. Assim, somente os extremos norte e sul escapam da zona tropical, localizando-se na zona temperada.

Historicamente, o continente caracterizou-se por um conjunto de conquistas, imposições culturais, colonizações e exploração. Ao longo dos séculos, vários países, especialmente europeus, reivindicaram parte do território africano, assim como suas riquezas e sua população. Durante séculos, **o continente europeu beneficiou-se dos recursos naturais e humanos oriundos da África.**

Apesar de uma imagem cristalizada de um continente pobre, a África possui importantes **potências econômicas regionais**, como Egito, África do Sul e Nigéria. Destacam-se ainda Argélia, Angola e Líbia como grandes produtores de petróleo. No vasto território do continente africano, ainda se encontram variadas reservas de recursos minerais, como diamante (Botsuana, Congo e Angola) e ouro (Gana, África do Sul e Sudão).

O clima quente e a vegetação de savana são característicos do continente africano, que possui ainda extensos desertos, como o Saara e o Kalarari. A maior parte do relevo do continente é formado por planaltos e depressões – estas acompanham os grandes cursos d'água do continente: Nilo, Congo, Chade e Níger.



Oceanos do mundo

Para tornar mais fácil a compreensão sobre os oceanos, a ciência dividiu-os em cinco, levando em consideração sua localização geográfica, e variação climática e de latitude.

- **Oceano Pacífico:** é o maior dos oceanos, com uma aproximada extensão de 146,5 milhões de km². Devido ao seu tamanho, apresenta diferentes condições climáticas e variadas temperaturas. Atinge o oeste da América, o sul da Antártida, a Oceania e o leste asiático.
- **Oceano Atlântico:** considerado o segundo maior oceano, é um divisor natural entre os continentes americano, europeu e africano. Devido à Linha do Equador, é chamado de Atlântico Norte (Hemisfério Norte) e Atlântico Sul (Hemisfério Sul).
- **Oceano Índico:** no ranking de extensão territorial, é o terceiro maior, banhando o leste do continente africano, o sul da Ásia, o oeste da Oceania, e parte da Antártida.

- **Oceano Glacial Antártico:** é localizado no extremo sul do planeta, também conhecido como Oceano Austral. Ele é a junção das águas dos três maiores oceanos do mundo (Pacífico, Atlântico e Índico), que chega até a Antártida.
- **Oceano Glacial Ártico:** localiza-se no Polo Norte do planeta, sendo formado por águas congeladas e/ou águas com baixas temperaturas devido ao ângulo de inclinação da Terra e à baixa insolação nessa região.



1.1.1. Exercícios de cartografia: continentes, oceanos e mares: ênfase na América e na África

1) O mapa-múndi abaixo apresenta todos os continentes destacados em cores distintas. Marque a alternativa que corresponde à cor do continente africano no mapa.

- a) Vermelho
- b) Amarelo
- c) Verde
- d) Azul
- e) Preto

2) As pessoas sempre conviveram com a ideia de que o mundo era constituído por cinco oceanos. No entanto, conforme as classificações mais recentes, existem apenas três oceanos no mundo. Assinale a alternativa que indica corretamente os seus respectivos nomes:

- a) Glacial Ártico, Índico e Pacífico
- b) Glacial Antártico, Atlântico e Índico
- c) Pacífico, Atlântico e Índico
- d) Glacial Ártico, Glacial Antártico e Atlântico
- e) Pacífico, Antártico e Boreal

3) Com extensão territorial de 42 milhões de quilômetros quadrados, a América é o segundo maior continente. Essa grande porção territorial é subdividida em três grandes regiões, denominadas subcontinentes. Cite os três subcontinentes da América e indique três países de cada um deles.

- a) América do Norte, Ásia, Europa
- b) América do Norte, América do Sul e Eurásia
- c) América do Norte, América Central e América do Sul
- d) África, Ásia e Europa

4) Relacione a coluna dos países com as respectivas capitais:

- | | |
|--------------------|----------------------|
| 1 – Canadá | () Caracas |
| 2 – Haiti | () Assunção |
| 3 – Paraguai | () Havana |
| 4 – México | () São José |
| 5 – Brasil | () Ottawa |
| 6 – Colômbia | () Brasília |
| 7 – Cuba | () Kingston |
| 8 – Argentina | () Cidade do México |
| 9 – Estados Unidos | () Bogotá |
| 10 – Costa Rica | () Buenos Aires |
| 11 – Venezuela | () Porto Príncipe |
| 12 – Jamaica | () Washington |

- a) 11,3,7,10,1,5,12,4,6,8,2,9
b) 9,2,8,6,4,12,5,1,10,7,3,11
c) 5,1,10,7,3,11,9,2,8,6,4,12
d) 11,3,7,9,2,8,12,4,6,5,10,1

5) Qual é o maior mar da superfície terrestre?

- a) Mar Mediterrâneo
b) Mar do Caribe
c) Mar do Coral
d) Mar de Bering
e) Mar da China

GABARITO

Questão 1	Questão 2	Questão 3	Questão 4	Questão 5
E	C	C	A	B

AMOSTRA

2

2. AMÉRICA

Localização, regionalização e características do espaço natural

Aspectos demográficos, políticos, sociais e econômicos com ênfase nos EUA e Canadá

Diversidades e contrastes

Dependências tecnológicas

Urbanização e suas consequências

Relação de interdependência da cidade com o campo

Blocos econômicos da América e suas relações com mercados mundiais

Segundo o historiador português José Pedro Machado, o nome AMÉRICA advém de uma homenagem feita a um italiano chamado Américo Vespúcio, explorador que viveu entre 1454 e 1512.

Embora Cristóvão Colombo tenha sido o primeiro europeu a chegar a essas terras, ele achava que tinha chegado às Índias.

Foi Américo Vespúcio quem anunciou a existência de novas Terras, de um novo continente!

O continente americano, em comparação com os demais, ocupa a maior extensão no sentido norte-sul, fato que influencia sua grande diversidade natural.

O relevo americano foi formado pela ação de agentes internos e externos, como é o caso da falha de San Andreas, influenciada pelo tectonismo, que consiste no movimento das placas tectônicas (agente interno), e o Grand Canyon, entalhado pelo processo de erosão do rio Colorado (agente externo).

O continente americano apresenta extensão territorial de 42 960 000 km². Em comparação com os demais, é o de maior extensão territorial no sentido norte-sul.

A América localiza-se integralmente no hemisfério Ocidental, ou seja, a oeste do meridiano de Greenwich. Suas terras se distribuem pelos hemisférios Norte e Sul. É banhada pelo oceano Pacífico a oeste e pelo oceano Atlântico a leste. Em sua extremidade Norte, é banhada pelo oceano Glacial Ártico. Na porção sul (cabo Horn), estão os oceanos Pacífico e Atlântico.

Por causa de sua diversidade natural, humana e econômica, a América pode ser regionalizada de duas formas: pela localização geográfica de suas terras e por sua diversidade humana e econômica.

A América é cortada por quatro paralelos principais: Círculo Polar Ártico, Trópico de Câncer, Equador e Trópico de Capricórnio.



AMOSI

2.1. LOCALIZAÇÃO, REGIONALIZAÇÃO E CARACTERÍSTICAS DO ESPAÇO NATURAL

O continente americano é cortado por quatro paralelos principais: Círculo polar Ártico(1), Trópico de Câncer(2), Equador(3) e Trópico de Capricórnio(4).

Ocupa terras do hemisfério norte, sul e oeste.

O continente americano apresenta grandes cadeias de montanhas, rios caudalosos, diversos tipos de clima e grande variedade de paisagens naturais.



RELEVO

Na América, destacam-se quatro grandes conjuntos de relevo, que se distinguem um do outro pela altitude: as altas cordilheiras do oeste; as planícies centrais; as depressões do centro; e os planaltos e as montanhas antigos desgastados do leste.

Na costa oeste do continente, banhada pelo oceano Pacífico, predominam formações montanhosas jovens, ou seja, de idade geológica recente. Essas cadeias de montanhas se estendem por cerca de 15 000 quilômetros, desde o Alasca até o extremo sul do Chile, recebendo diferentes denominações locais: Montanhas Rochosas, no Canadá e nos Estados Unidos; Serra Madre, no México; e Cordilheira dos Andes, na América do Sul. Essas montanhas apresentam grandes altitudes; suas acentuadas declividades e o frio intenso inibem a ocupação humana. Tanto na costa do Atlântico quanto na costa do Pacífico existem as chamadas planícies litorâneas ou costeiras, formadas pela deposição de sedimentos marinhos e fluviais. Na costa oeste, elas são estreitas, enquanto na costa leste costumam ser mais amplas.

A costa do Atlântico, a leste do continente americano, é constituída de montanhas e planaltos antigos, bastante desgastados pelos agentes erosivos (ventos, chuvas etc.).

Os principais planaltos são:

Planalto Laurenciano, no Canadá; Montes Apalaches, nos Estados Unidos; Planalto das Guianas e Planalto Brasileiro, na América do Sul.

Na porção central da América, encontram-se grandes planícies e depressões, como a Planície Central, na América do Norte; e as planícies e depressões da Amazônia, a Planície do Pantanal e a Depressão do Chaco, na América do Sul.



HIDROGRAFIA

Muitos rios americanos nascem nas áreas montanhosas do oeste e desembocam no litoral atlântico. Os cursos dos rios do continente americano podem ser agrupados segundo o trecho da costa onde desembocam: do Ártico, do Pacífico, do Golfo do México e do Atlântico.

Podem-se observar conjuntos de bacias hidrográficas cujos rios correm para um mesmo trecho da margem litorânea — que pode ser um oceano ou um mar. Alguns dos principais cursos de água percorrem longos trechos do continente até sua foz, destacando-se o rio Amazonas, cuja nascente se localiza nos Andes, próximo à costa pacífica.

Na Planície Central dos Estados Unidos, há um sistema hidroviário englobando os rios Mississípi e Missouri. Esse sistema é muito importante para o transporte de mercadorias no país.

Dentre as grandes bacias existentes, três delas merecem destaque: a *Bacia Platina* (América do Sul), a *Bacia do Mississipi-Missouri* (América do Norte) e *Bacia Amazônica* (América do Sul), sendo essa última a maior do mundo tanto em extensão quanto em volume de água, propiciando uma riqueza hidrográfica sem igual em todo o mundo.

Os rios da América central são curtos e pouco caudalosos, devido as características territoriais e do relevo da região.

OS LAGOS DO CONTINENTE AMERICANO

América do Norte

Os cinco Grandes Lagos:

Lago Erie

Lago Huron

Lago Ontario

Lago Superior

Lago Michigan

Grande Lago Salgado

Grande Lago do Escravo

Grande Lago do Urso

Lago Winnipeg



América Central

Lago Nicarágua

Lago Manágua

Lago Ilopango



América do Sul

Lago Titicaca

Lago Guaíba

Lagoa dos Patos

Lagoa Mirim

Lagoa da Conceição



AS CORRENTES MARÍTIMAS E O CONTINENTE AMERICANO

O mapa ao lado representa as correntes marítimas que atuam sobre o continente americano.

Elas interferem nas dinâmicas climáticas, especialmente nas áreas litorâneas.

O fenômeno da ressurgência que ocorre no litoral da América do Sul é um exemplo de como as correntes podem influenciar a dinâmica da vida e sobrevivência no continente.



As correntes marítimas agem diretamente na temperatura e umidade do ar na região onde passam. Elas interferem no continente americano de variadas maneiras.

A corrente do Golfo (quente) se forma no golfo do México e o seu efeito é importante para moderar os climas da zona temperada, principalmente nas costas americanas (América do Norte) e da Europa (Reino Unido, principalmente).

A corrente do Caribe (quente) atua na América Central, que está localizada na faixa intertropical e possui climas quentes e úmidos, favorecendo o turismo o ano todo nesta região.

As correntes do Labrador e da Califórnia (correntes frias) provocam quedas de temperatura na costa do Pacífico, no norte do Canadá e no nordeste dos Estados Unidos, respectivamente.

A CORRENTE DE HUMBOLT E A RESSURGÊNCIA NO CONTINENTE AMERICANO

A corrente de Humbolt, também chamada de corrente do Peru, é uma corrente oceânica fria que banha o litoral oeste da América do Sul e provoca o fenômeno de ressurgência no litoral do Peru.

A ressurgência ocorre quando as águas frias, ricas em plâncton ascendem no oceano no litoral, em virtude das temperaturas mais elevadas.

Por outro lado, essa mesma corrente contribui para a existência do deserto de Atacama, devido a sua influência sobre o clima.



América: regionalização física

A diversidade natural do continente determina sua regionalização pela localização geográfica, apresentando três unidades: América Central, América do Norte e América do Sul, conforme apresentado no mapa a seguir.



Adaptado de: SIMIELLI, Maria Elena. Geografia. São Paulo: Ática, 2013. p. 50.

A América Central tem duas porções: a América Central Continental ou Ístmica, que liga a América do Norte à América do Sul, formada pela Guatemala, pelo Belize e pelo Panamá; e a América Central Insular ou Caribenha, formada por ilhas no Mar do Caribe ou Antilhas, como Cuba, Bahamas e Jamaica.

O mapa a seguir apresenta a formação política da América Central.



Adaptado de: SIMELLI, Maria Elzsa. Geografia: São Paulo: Ática, 2013. p. 55.

A **América do Norte** tem uma área de 24 000 000 km², constituída de três países – Canadá, EUA e México – e pela ilha da Groenlândia, que é um território da Dinamarca. A região limita-se, ao sul, com a América Central; ao norte, com o oceano Glacial Ártico; a leste, com o oceano Atlântico; e, a oeste, com o oceano Pacífico.

A **América do Sul** é formada por 12 países (Venezuela, Brasil, Colômbia, Equador, Peru, Bolívia, Paraguai, Argentina, Chile, Uruguai, Guiana e Suriname) e 5 dependentes (Aruba, Curaçao e Bonaire, pertencentes aos Países Baixos; Ilhas Maldivas e Ilhas Geórgia do Sul pertencentes ao Reino Unido; e Guiana Francesa, território ultramarino da França) e tem uma área de 18 000 000 km². A região é banhada, a leste, pelo oceano Atlântico e, a oeste, pelo oceano Pacífico.

Entre as ilhas da região, podemos destacar: Galápagos, Santo Félix, Santo Ambrósio, Falkland Juan Fernandes, Martim Vaz, Trindade e Fernando de Noronha.

A América do Sul é cortada pela linha do equador e pelo trópico de Capricórnio; portanto, a região apresenta terras nas zonas intertropical e temperada do sul.



Adaptado de: SIMIELLI, Maria Elena. Geografia. São Paulo: Ática, 2013. p. 53.

América: regionalização histórico-cultural

Com base nessa forma de regionalização, podemos dividir o continente americano em duas grandes porções: a América Anglo-Saxônica, que recebe tal denominação por ter sido colonizada predominantemente por povos que falavam inglês, uma língua anglo-saxônica; e a América Latina, colonizada por povos europeus de origem latina, ou seja, países europeus que surgiram após a queda do Império Romano do Ocidente, que falavam línguas latinas (derivadas do latim), como os portugueses e espanhóis.

A América Anglo-Saxônica é formada pelo Canadá e pelos Estados Unidos, países com alto nível de desenvolvimento social e econômico.

Os colonizadores europeus estabeleceram diferentes formas de colonização no continente americano. Na América do Norte, houve uma colonização de povoamento, ocasionada pela entrada de imigrantes que fugiam da Europa em virtude de perseguições políticas e religiosas.



Adaptado de: SIMELLI, Maria Elena. Geografia. São Paulo: Ática, 2013. p. 59.

CARACTERÍSTICAS DOS CLIMAS DA AMÉRICA

As grandes massas de água (oceanos e mares), amenizam as temperaturas nas áreas litorâneas deixando o clima mais ameno que no interior do continente. (salvo algumas exceções).

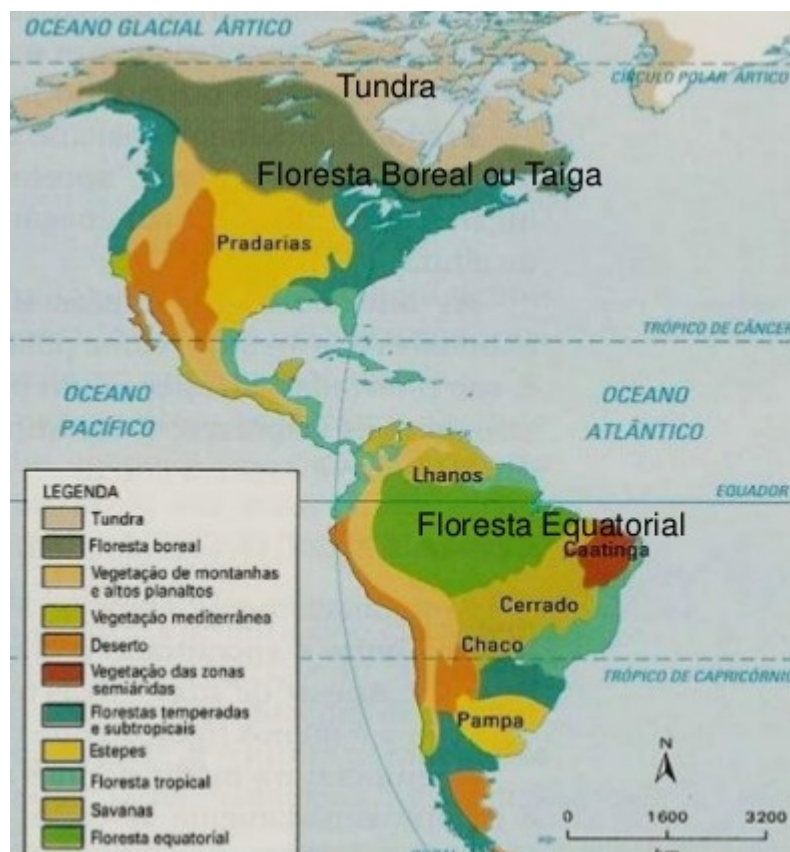
A maior proximidade ou não do mar caracteriza os climas como sendo oceânicos ou continentais.

A maritimidade e a continentalidade representam essa influência, respectivamente.

VEGETAÇÃO DO CONTINENTE AMERICANO

A América abriga muitos tipos de vegetação, isso acontece devido a sua variedade de climas, solos, assim como seu relevo e hidrografia.

No mapa ao lado veja os tipos de vegetação do Continente Americano




A Tundra se localiza no extremo Norte, onde predomina o clima polar. Suas características são vegetação baixa e rasteira, composta de musgos, líquens.

A Floresta Boreal ou Taiga localiza-se em áreas de climas frios, apresenta pouca variedade de espécies. Sua árvore é o pinheiro. Também é conhecida como Floresta de Coníferas.

A Floresta Temperada, acontece no clima temperado úmido. Suas árvores eliminam as folhas no outono-inverno, por isso também são chamadas de floresta caducifólia, que quer dizer que as folhas “caem”. É uma floresta característica da região Oeste da América do Norte, e que também ocorre no Chile, na América do Sul.

A vegetação desértica ocorre no clima árido e semiárido. Apresenta árvores pequenas, arbustos espinhosos e cactos. No Brasil recebe o nome de Caatinga.

A vegetação de pradaria é típica de clima temperado continental, com vegetação formada por gramíneas e arbustos. No Brasil essa vegetação é denominada Campos e ocorre nas áreas de clima Subtropical.



A savana ocorre na faixa intertropical do planeta. É formada por plantas rasteiras, pequenas árvores, vegetação espinhosa. Ocorrem no norte da América Central, no nordeste e centro-oeste da América do Sul. No Brasil é chamada de Cerrado.

A Floresta Tropical e Floresta Equatorial ocorrem nas áreas quentes e úmidas de climas tropicais e equatoriais. Possuem folhas perenes e largas (latifoliadas). A cobertura vegetal é densa e estratificada. Essa vegetação ocorre na maior parte da América do Sul e América Central. Um exemplo, no Brasil, é a Mata Atlântica e a Amazônia.

2.1.1. Exercícios de localização, regionalização e características do espaço natural

1) Assinale a opção INCORRETA em relação às características da Paisagem:

- a) As paisagens representam apenas elementos naturais de um determinado lugar.
- b) A paisagem é tudo o que os nossos olhos veem de um determinado local.
- c) As paisagens mudam.
- d) As paisagens podem ser bonitas ou feias.

2) Assinale a opção INCORRETA em relação às características do Espaço Geográfico:

- a) O Espaço Geográfico é formado pelos aspectos originais da natureza.
- b) Lugar é a parte do Espaço Geográfico onde vivemos e interagimos com a paisagem.
- c) O Espaço Geográfico é a natureza transformada pelos seres humanos, por meio de seu trabalho ao longo da história.
- d) Para entendermos o Espaço Geográfico faz-se necessário compreender a sociedade que o criou e continua a transformá-lo ao longo do tempo.

3) A respeito do conceito de região, avalie as proposições a seguir:

I) Uma região pode ser criada com a finalidade de realizar estudos sobre as características gerais de um território, assim como para entender determinados aspectos do espaço.

II) A região resulta de uma elaboração racional e intencional do ser humano. Tem a finalidade de facilitar a análise, a gestão e a compreensão de uma determinada área e dos elementos que a compõem.

III) Em geral, a região pode ser entendida como uma área que foi dividida obedecendo-se a um critério específico.

IV) Algumas regiões surgem de forma natural e são estabelecidas sem que seja necessária a especificação de um critério que as defina ou classifique. Elas são chamadas de regiões naturais.

Estão corretas as alternativas:

- a) II e III.
- b) II, III e IV.
- c) I, II e III.
- d) Todas as alternativas.
- e) Apenas a alternativa IV.

4) Esta categoria pode ser definida como o espaço percebido, ou seja, uma determinada área ou ponto do espaço da forma como são entendidos pela razão humana. Seu conceito também se liga ao espaço afetivo, aquele local em que uma determinada pessoa possui certa familiaridade ou intimidade, como uma rua, uma praça ou a própria casa.”

A que categoria geográfica refere-se o fragmento acima?

- a) região
- b) território
- c) paisagem cultural
- d) lugar
- e) espaço geográfico

5) Categoria amplamente utilizada no âmbito da política, esse conceito é comumente entendido como uma área delimitada por fronteiras e está relacionado com uma configuração de poder. É, portanto, uma área apropriada, uma porção do espaço geográfico onde uma relação hierárquica estabelece-se.

A que categoria geográfica refere-se a definição acima?

- a) paisagem
- b) lugar
- c) espaço geográfico
- d) região
- e) território

GABARITO

Questão 1	Questão 2	Questão 3	Questão 4	Questão 5
B	A	C	D	E

AMOSTRA

3

3. ÁFRICA

Localização, regionalização e características do espaço natural

Aspectos demográficos, políticos, sociais e econômicos

Diversidade étnica e social

Conflitos étnicos, políticos e religiosos

Segregação racial da África do Sul – Apartheid

Cultura africana e influências no Brasil

Localizada ao sul da Europa e a sudoeste da península Arábica, a África é o terceiro maior continente em extensão territorial. Grande parte de suas terras está situada entre os trópicos de Câncer e de Capricórnio.

O território africano é banhado pelo oceano Atlântico a oeste, pelo oceano Índico a leste, pelo mar Mediterrâneo ao norte e pelo mar Vermelho a nordeste.

De maneira geral, o continente africano vive um momento de transformação.

O processo de urbanização acontece rapidamente, os investimentos estrangeiros produzem modificações profundas nas paisagens e há expansão da infraestrutura em diferentes países do continente. As relações econômicas, que no passado estiveram muito ligadas à Europa, atualmente têm se voltado especialmente ao mercado chinês, o que vem contribuindo para dinamizar a economia de diversos países da África.

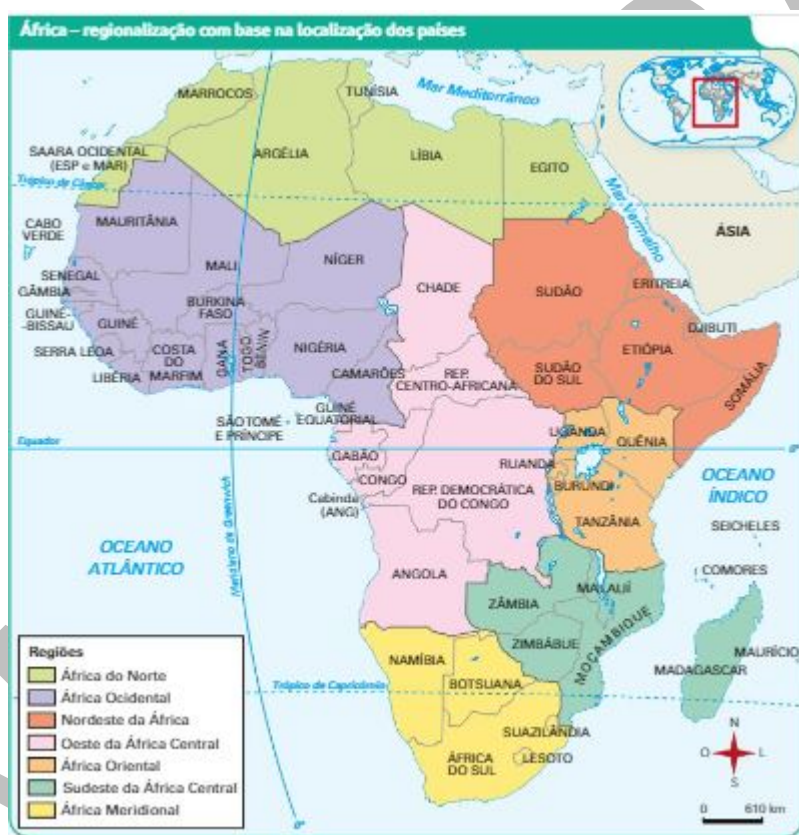
Contudo, o forte contraste social acentua as diferenças entre os grupos mais ricos e os mais pobres.

A complexidade e a diversidade de características do continente torna possível regionalizar a África de diferentes maneiras, enfatizando diversos aspectos, sejam físicos, econômicos, culturais ou sociais.

3.1. LOCALIZAÇÃO, REGIONALIZAÇÃO E CARACTERÍSTICAS DO ESPAÇO NATURAL

Regionalização da África

A regionalização pautada na localização geográfica divide o continente em cinco regiões: África do norte, África meridional, África ocidental, África central e África oriental.

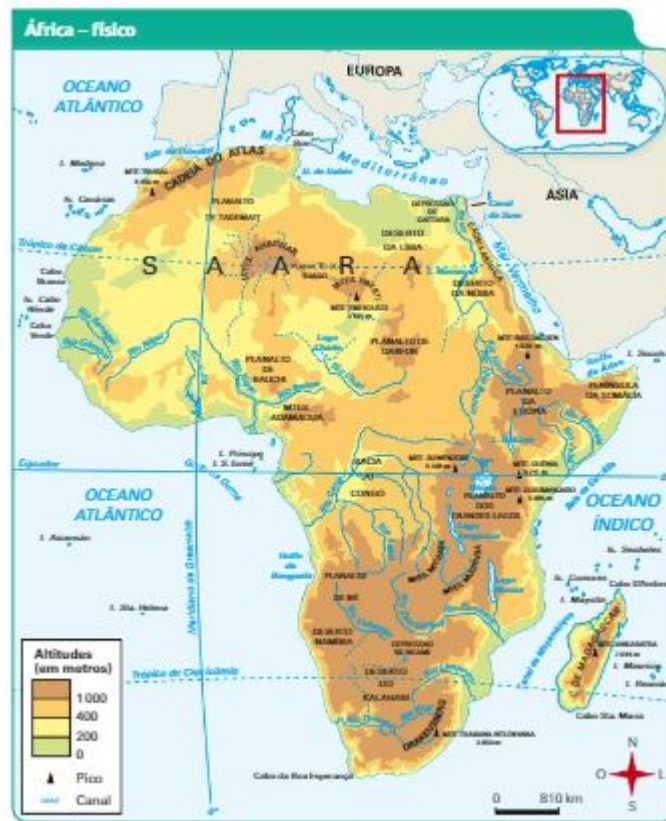


A regionalização pautada no critério étnico-cultural divide o continente em duas regiões: a África setentrional e a África subsaariana. A África setentrional abriga, em sua maioria, povos de origem árabe, que seguem o islamismo e detêm os melhores indicadores sociais do continente. É composta de Egito, Líbia, Argélia, Tunísia, Marrocos, Sudão e Saara Ocidental.

A África subsaariana, por sua vez, encontra-se ao sul do deserto do Saara, é rica em recursos minerais e apresenta vários problemas sociais. Ela também é marcada por grande diversidade religiosa. Na região há o predomínio de populações negras, cujas principais etnias são bantos e sudaneses. A região conta ainda com a presença de minorias brancas, de povos descendentes dos colonizadores europeus e de povos asiáticos, como indonésios, chineses e indianos.

RELEVO

Predominam na África terrenos pouco íngremes e altitudes inferiores a 1 000 metros. As planícies são encontradas nas faixas litorâneas ou ao longo das margens de rios, como o Congo, o Gâmbia e o Senegal. Os planaltos antigos, bastante desgastados por agentes erosivos (vento, chuva etc.), dominam as paisagens naturais do continente. No entanto, algumas porções do território sofreram influência de processos tectônicos recentes — ligados principalmente a atividades vulcânicas —, que contribuíram para a formação de altas montanhas no extremo norte e na porção leste. O monte Quilimanjaro, cujo pico é o mais alto da África, com 5 895 metros de altitude, está localizado na porção leste do continente.



Adaptado de: SIMELLI, Maria Elvira. Geografia. São Paulo: Ática, 2013. p. 63.

Planaltos africanos

O relevo do continente africano está dividido em três porções principais: planalto Oriental, planalto Setentrional e planalto Centro-Meridional.

Planalto Oriental

Trata-se de uma região com montanhas de origem vulcânica de altitudes elevadas e depressões ou fossas tectônicas que deram origem a extensos lagos, como o Tanganica, o Vitória (formador do rio Nilo) e o Niassa. Um aspecto marcante nesse planalto é o grande vale do Rift africano (Rift Valley), um sistema de falhas geológicas que atravessa a África Oriental no sentido norte-sul, com milhares de quilômetros de extensão, gerado na mesma época em que ocorreu a separação das placas tectônicas Africana e Arábica.

Essa região vai se separar do restante do continente africano daqui a milhões de anos, ficando isolada dele, e também vai formar um novo oceano na região.



Planalto Setentrional

Nessa porção do relevo africano, localiza-se o deserto do Saara, que ocupa um quarto do território continental. A noroeste dele está a cadeia do Atlas, que se estende desde o litoral do Marrocos até a Tunísia.

Planalto Centro-Meridional

Esse planalto compreende o centro-oeste e o sul do continente e apresenta altitudes médias mais altas que as do planalto Setentrional, com exceção da Bacia do Rio Congo e do deserto do Kalahari, que constituem grandes depressões.

Hidrografia

Apesar da grande extensão territorial do continente, ele apresenta poucos rios, que estão distribuídos de modo irregular pelo território. Por causa das características do relevo, os rios são predominantemente de planalto, o que inviabiliza sua utilização para a navegação.

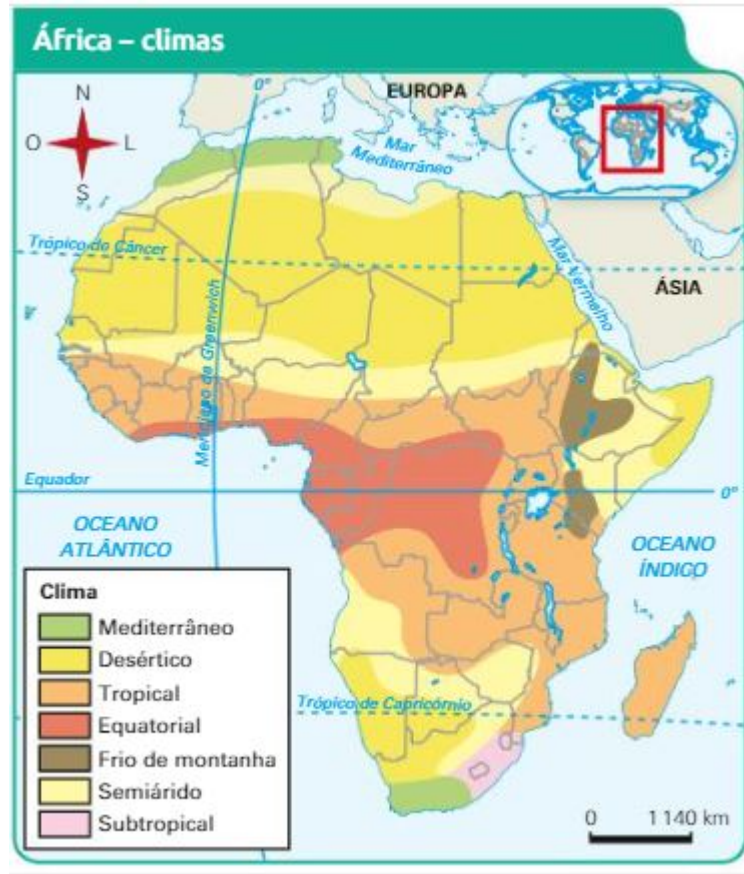
Um dos rios mais importantes do continente é o Nilo. Com extensão de 6 671 km, é o segundo maior rio do mundo, ficando atrás apenas do rio Amazonas. O rio Nilo nasce nas proximidades do lago Vitória e corre na direção norte, onde deságua em forma de delta no mar Mediterrâneo. O rio foi essencial para várias populações ao longo da história, em especial para os egípcios. Esse povo desenvolvia a agricultura em suas margens, aproveitando os nutrientes que eram deixados no local durante o período das cheias.

Outro rio fundamental no continente africano é o Níger, que nasce na fronteira entre Guiné e Serra Leoa e deságua no oceano Atlântico. Sua importância se deve ao fato de ele ser utilizado para a geração de energia elétrica.

Já o rio Congo nasce próximo ao Grand Rift Valley e deságua no oceano Atlântico, passando pela floresta do Congo. Na região Sul, destacam-se os rios Orange e Zambeze. Além dos rios, o continente tem lagos, como Vitória, Tanganica, Chade e Niassa. O lago Chade desempenha uma função vital: por estar localizado em uma área com baixa pluviosidade, ele é utilizado para abastecer a população do seu entorno.

Clima e vegetação

O clima africano é basicamente determinado pela latitude de suas diferentes regiões, estruturadas em faixas bem definidas nos hemisférios norte e sul, a partir da linha do equador, que passa pelo centro desse continente.



Distingue-se, em primeiro lugar, uma zona de clima equatorial, que abrange Gabão, Camarões, bacia do rio Congo, orla sul do golfo da Guiné e zonas elevadas da África oriental. Ela é extremamente úmida e de temperatura elevada, embora moderada pelas chuvas constantes, com oscilação térmica reduzida, com médias de 25 °C.

O clima tropical é encontrado em várias áreas do continente. Ele se caracteriza por elevadas temperaturas ao longo do ano e estação seca no inverno e chuvosa no verão.

A África apresenta uma área de clima árido, ou desértico, maior do que em qualquer outro continente. No Saara, ao norte, na região denominada de Chifre da África, ao leste, e nos desertos de Kalahari e da Namíbia, ao sudoeste, as precipitações anuais são inferiores a 250 mm, e a vegetação só aparece nos oásis. O Saara e o Kalahari, respectivamente nos hemisférios norte e sul, constituem duas extensas faixas de clima

desértico, muito seco e de grandes amplitudes térmicas, com altas temperaturas durante o dia e rápido esfriamento à noite.

O clima semiárido é encontrado em várias regiões no continente, principalmente no entorno do clima desértico, marcado por baixas precipitações ao longo do ano.

Por último, os extremos setentrional e meridional desse continente, o Atlas e a região do Cabo apresentam clima mediterrâneo, com chuvas na primavera e no outono e estiagem no verão. A proximidade oceânica e os cursos fluviais introduzem algumas variantes climáticas regionais.

O clima frio de montanha ocorre na porção sudeste do continente, onde estão localizadas as maiores altitudes, cujas temperaturas são baixas durante todo o ano, ocasionando a presença de neves “eternas” no topo das montanhas.

Com tais características climáticas, podemos encontrar na África diversas formações vegetais. A vegetação característica das regiões de clima quente e úmido são as florestas pluviais – denominadas florestas equatoriais.

Merece destaque a floresta do Congo, que apresenta em sua formação, espécies arbóreas de até 50 metros de altura. São matas com grande riqueza de espécies vegetais. Observe a imagem a seguir.



Nas regiões de clima tropical úmido, são encontradas as florestas tropicais, semelhantes às equatoriais, constituídas por árvores de menor porte. Nas áreas em que o clima apresenta uma estação chuvosa e outra seca, a vegetação é formada por savanas, que servem de habitat para animais de grande porte, como elefantes, girafas e leões.

Nos extremos norte e sul da África, o clima é mediterrâneo, com duas estações bemdefinidas: seca no verão e chuvosa no inverno. A vegetação é formada por plantas arbustivas e espinhosas, conhecidas como garrigues.

Nos climas áridos ou desérticos, há espécies xerófilas, e as plantas apresentam espinhos em lugar de folhas, o que diminui a transpiração, além de as raízes serem longas para buscar água subterrânea.

Nas regiões semiáridas, como ao sul do Saara, em uma faixa de terra conhecida como Sahel (transição entre o deserto e a zona tropical), predominam as estepes, com vegetação rasteira formada por ervas baixas e gramíneas dispersas.

3.1.1. Exercícios de localização, regionalização e características do espaço natural (África)

1) É o maior país produtor de petróleo da África do Norte, cuja exploração é feita no deserto do Saara. Trata-se do (a):

- a) Marrocos
- b) RAU
- c) África do Sul
- d) Zaire
- e) Líbia

2) Os países localizados na região denominada África do Norte apresentam características que os diferenciam dos países situados na África Subsaariana.

Entre as características dos países da África do Norte, destaca-se a:

- a) existência dos mais baixos indicadores socioeconômicos do continente.
- b) economia em que prevalece a exportação de produtos agrícolas.
- c) diversidade étnica e predomínio de religiões que cultuam a natureza.
- d) predominância da população árabe e adepta da religião islâmica.

3) Sobre o continente africano é correto afirmar, exceto:

- a) De forma geral, o continente se caracteriza pelo baixo nível de instrução escolar de sua população, apresentando um grande número de analfabetos.
- b) O baixo nível de renda da maioria da população determina a formação de bolsões internos de pobreza, agravada pela má distribuição da renda.
- c) Existe uma dependência das atividades primárias, como a agricultura e o extrativismo, o que explica a ocorrência de elevado número de trabalhadores neste setor na grande maioria dos países.

- d) O desenvolvimento econômico localizado e setorizado, uma vez que apenas algumas áreas ou setores se desenvolvem – em geral, aqueles ligados às produções voltadas para o mercado externo –, determina a formação de “ilhas de prosperidade”.
- e) As maiores cidades se localizam no interior do continente, para onde as populações se deslocaram no período da colonização.

4) Na África, uma extensa faixa que se estende no sentido leste-oeste, desde a Europa até o Senegal abrangendo todo o sul do Saara, recebe de seus habitantes a denominação de Sahel. É área caracterizada pelo predomínio de:

- a) vegetação mediterrânea.
b) floresta equatorial.
c) floresta tropical.
d) estepes.
e) savanas.

5)

- a) rio Ganges () o maior da África
b) rio lang-tse Kiang () o maior da Europa
c) rio Nilo () rio sagrado da Índia
d) rio Congo () banha o norte da Itália
e) rio Reno () o maior da China (rio Azul)
f) rio Volga () o mais navegado da Europa
g) rio Pó () fica na África Central

A ordem correta é:

- a) d, e, a, f, f, b, c
b) f, a, g, b, c, e, d
c) c, f, a, g, b, e, d
d) d, e, b, g, a, f, c

e) g, d, b, a, f, e, c

GABARITO

Questão 1	Questão 2	Questão 3	Questão 4	Questão 5
E	D	E	D	C

AMOSTRA