

NOME:

DATA:

MF6 - Exercício de polígonos

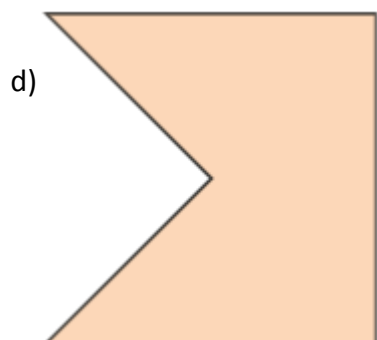
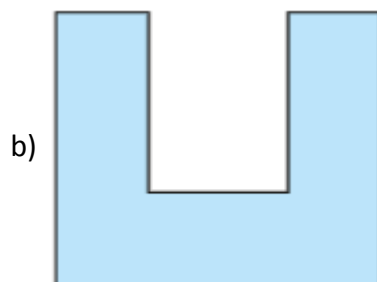
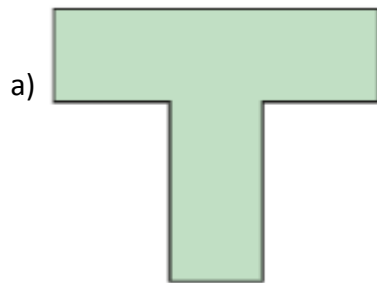
QUESTÃO 1 DE 5

O heptágono é um polígono que tem:

- a) 7 lados.
- b) 6 lados.
- c) 5 lados.
- d) 3 lados.

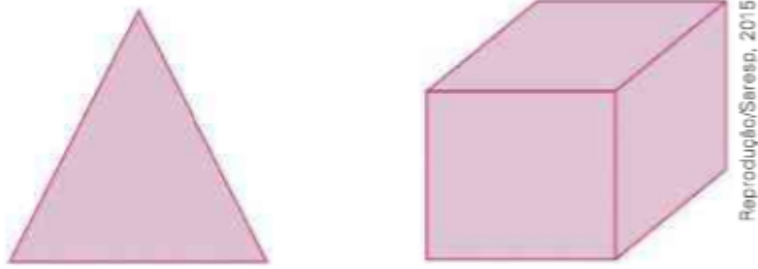
QUESTÃO 2 DE 5

Qual das figuras a seguir é um polígono com exatamente cinco vértices?



QUESTÃO 3 DE 5

(Saresp) Observe as figuras.

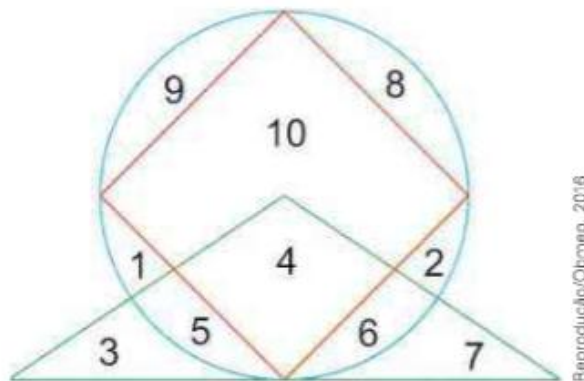


Essas figuras são classificadas, respectivamente como:

- a) cone e quadrado.
- b) prisma e retângulo.
- c) triângulo e pirâmide.
- d) triângulo e cubo.

QUESTÃO 4 DE 5

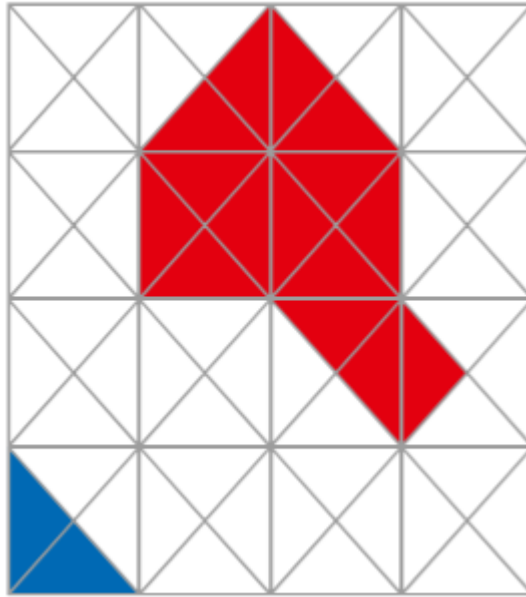
(Obmep) Observe a figura. Qual é a soma dos números que estão escritos dentro do triângulo e também dentro do círculo, mas fora do quadrado?



- a) 10
- b) 11
- c) 14
- d) 17
- e) 20

QUESTÃO 5 DE 5

Na figura, o polígono azul tem área de $0,5 \text{ cm}^2$.



Então, a área do polígono vermelho é:

- a) $3,75 \text{ cm}^2$
- b) 4 cm^2
- c) $4,25 \text{ cm}^2$
- d) 5 cm^2

GABARITO

Questão 1	Questão 2	Questão 3	Questão 4	Questão 5
A	D	D	B	A