



NOME:

DATA:

## MF6 - Exercício de Números fracionários

### QUESTÃO 1 DE 5

Em que figura a parte azul representa a fração  $\frac{3}{7}$ ?



### QUESTÃO 2 DE 5

Em um sítio existem 12 cavalos, 8 vacas e 40 frangos. A fração desse conjunto de animais que corresponde aos quadrúpedes é:

a)  $\frac{2}{3}$

b)  $\frac{1}{5}$

c)  $\frac{1}{3}$

d)  $\frac{2}{15}$

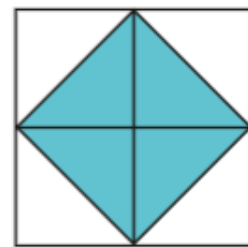

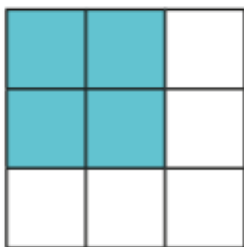
QUESTÃO 3 DE 5

(Saresp) A fração de uma hora que corresponde a 15 minutos é:

- a)  $\frac{1}{6}$
- b)  $\frac{1}{4}$
- c)  $\frac{1}{3}$
- d)  $\frac{1}{2}$

QUESTÃO 4 DE 5

Cada figura abaixo representa uma fração:



A maior fração aí representada é equivalente a:

- a)  $\frac{1}{2}$
- b)  $\frac{2}{3}$
- c)  $\frac{2}{5}$
- d)  $\frac{4}{9}$

QUESTÃO 5 DE 5

Numa prova, Álvaro acertou  $\frac{5}{6}$  das questões, Clóvis acertou  $\frac{7}{9}$  e Jarbas acertou  $\frac{7}{12}$ . Pode-se afirmar que:

- a) Álvaro acertou menos questões que Clóvis.
- b) Clóvis acertou menos questões Jarbas.
- c) Álvaro acertou menos questões que Jarbas.
- d) Álvaro foi o que acertou o maior número de questões.

GABARITO

Questão 1	Questão 2	Questão 3	Questão 4	Questão 5
C	C	B	A	D